

1. U knjigovodstvu poduzeća Siječanj d.o.o. na dan 01.01.2006. godine iskazana su sljedeća stanja:

- dionice kupljene na rok dulji od 1 godine	70.000
- obveza prema dobavljačima (kratkoročne)	31.000
- izdani dugoročni vrijedn.papiri	13.000
- obveza za izdane čekove	17.000
- novac	4.000
- upisani temeljni kapital	40.000
- zalihe trgovačke robe	16.000
- dobit tekuće godine (neto dobit)	16.000
- potraživanja od kupaca (kratkoročna)	16.000
- dani kratkoročni krediti	11.000

Primjenjujući načelo opadajuće likvidnosti aktive i rastuće ročnosti pasive sastavite bilancu:

Bilanca na dan \_\_\_\_\_

Opis	Iznos	Opis	Iznos
AKTIVA		PASIVA	

(3 boda)

2. Izračunaj koliko iznosi dugotrajna imovina ako je: KRATKOTRAJNA IMOVINA 20.000 kn, KAPITAL 30.000, OBVEZE 70.000 kn, DUGOTRAJNA IMOVINA \_\_\_\_\_

(2 boda)

3. Označite pozicije *AKTIVE*, *PASIVE* I *RAČUNA DOBITI I GUBITKA* za sljedeće nazive konta glavne knjige:

Naziv	AKTIVA	PASIVA	RDG
Prava na model i zaštitni znak			
Obveze za izdane obveznice			
Potrošena električna energija u administraciji			
Zadržana dobit			
Zemljište			

(2 boda)

4. Na temelju sljedećih podataka izračunajte **neto dobit** (metoda razvrstavanja troškova u RDG po prirodnim vrstama) ako je:

prihod od prodaje proizvoda 100.000 kn, plaće proizvodnih radnika 30.000 kn, plaće uprave i prodaje 10.000 kn, amortizacija pogona 10.000 kn, amortizacija uprave 10.000 kn, financijski prihod (kamata) 20.000 kn, a izvanredni rashodi (manjkovi) 10.000 kn.

Vrijednost zaliha nedovršene proizvodnje na početku razdoblja je 10.000 kn.

Vrijednost zaliha nedovršene proizvodnje na kraju razdoblja je 25.000 kn.

(2 boda)

5. Oznakama *P*, *F*, *I* i *X* označite poslovne, investicijske i financijske aktivnosti koje se odnose na novčane tokove, odnosno aktivnosti koje se ne odnose na novčane tokove.

\_\_\_\_\_ Kupcima su fakturirane isporuke roba, faktura iznosi 312.000 kn

\_\_\_\_\_ Isplaćene su plaće proizvodnim radnicima 900.000 kn

\_\_\_\_\_ Potpisan je ugovor s poslovnom bankom za dugoročni kredit 2.000.000 kn

(1 bod)

6. Koristeći se predznakom plus i minus uskladite neto dobit društva s navedenim učincima i utvrdite novčani tok od poslovnih aktivnosti.

	<i>Neto dobit</i>	<i>50.000</i>
	<i>Amortizacija imovine</i>	<i>25.200</i>
	<i>Povećanje potraživanja od kupaca</i>	<i>15.300</i>
	<i>Smanjenje zaliha</i>	<i>12.100</i>
	<i>Povećanje obveza prema dobavljačima</i>	<i>17.400</i>
	<i>Smanjenje obveza za plaće</i>	<i>12.300</i>
	<i>Povećanje obveza za carine i poreze</i>	<i>15.900</i>
	<i>Novčani tok od poslovnih aktivnosti</i>	

(2 boda)

7. Proknjiži sljedeće promjene:

a) Primljena je faktura dobavljača za automobil direktora u ukupnom iznosu od 300.000 kn.

b) Obračunat je trošak amortizacije auta u iznosu od 40.000 kn.



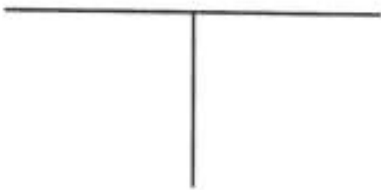



c) Plaćeno je dobavljaču sa žiro računa 20.000 kn (S° žiro računa 100.000 kn).

(3 boda)

8. U poslovnim knjigama Larić doo iskazana su sljedeća stanja knjigovodstvenih konta: zgrada 400.000 kn, ispravak vrijednosti zgrade 400.000 kn, upisani temeljni kapital 200.000 kn, novac 280.000 kn, obaveze prema dobavljačima \_\_\_\_\_ kn.

Potrebno je:

- a) Otvoriti konta glavne knjige. (1 bod)
- b) Proknjižite sljedeće promjene na kontima glavne knjige. (1 bod)
- 1) Prodana je zgrada kupcu za 900.000 kn neto. Nabavna cijena zgrade je 400.000 kn.
- 2) Kupac je platio na žiro račun 500.000 kn.
- c) Zaključiti konta aktive, pasive, prihode i rashode. (1 bod)
- d) Sastavi bilancu na kraju razdoblja. (1 bod)



d)

<i>Aktiva</i>	<i>Iznos</i>	<i>Pasiva</i>	<i>Iznos</i>
<b>UKUPNO AKTIVA</b>		<b>UKUPNO PASIVA</b>	